

SIMULADO 3

QUESTÃO 01

D6

Todos os objetos estão cheios de água.



Qual deles pode conter exatamente 1 litro de água?

- (A) A caneca
- (B) A jarra**
- (C) O garrafão
- (D) O tambor

D23

QUESTÃO 02

Vera comprou para sua filha os materiais escolares abaixo. Quanto ela gastou?



- (A) R\$ 22,80
- (B) R\$ 31,80
- (C) R\$ 32,80**
- (D) R\$ 33,80

D19

QUESTÃO 03

Um fazendeiro tinha 285 bois. Comprou mais 176 bois e depois vendeu 85 deles. Quantos bois esse fazendeiro tem agora?

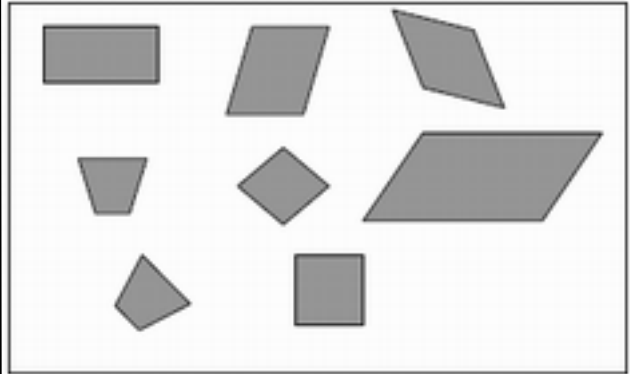
- (A) 266
- (B) 376**
- (C) 476

(D) 486

QUESTÃO 04

D3

Mariana colou diferentes figuras numa página de seu caderno de Matemática, como mostra o desenho abaixo.



Essas figuras têm em comum

- (A) o mesmo tamanho.
- (B) o mesmo número de lados.**
- (C) a forma de quadrado.
- (D) a forma de retângulo.

QUESTÃO 05

D20

Uma merendeira preparou 558 pães que foram distribuídos igualmente em 18 cestas. Quantos pães foram colocados em cada cesta?

- (A) 31**
- (B) 310
- (C) 554
- (D) 783

QUESTÃO 06

D8

Uma bióloga que estuda as características gerais dos seres vivos, passou um período observando baleias em alto-mar: de 5 de julho a 5 de dezembro. Baseando-se na sequência dos meses do ano, quantos meses a bióloga ficou em alto-mar estudando o comportamento das baleias?


- (A) 2 meses.
- (B) 3 meses.
- (C) 5 meses.**
- (D) 6 meses.

SIMULADO 3

D22

QUESTÃO 07

Vamos medir o parafuso?



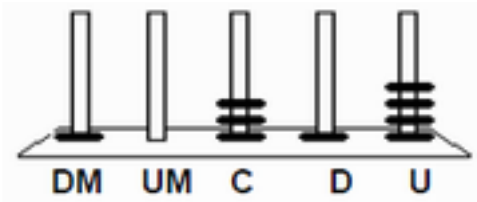
O parafuso mede:

- (A) 2,1 cm.
- (B) 2,2 cm.
- (C) 2,3 cm.
- (D) 2,5 cm.

D13

QUESTÃO 08

No ábaco abaixo, Cristina representou um número:



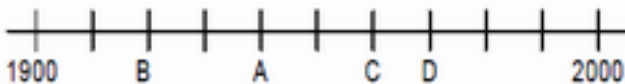
Qual foi o número representado por Cristina?

- (A) 1.314
- (B) 4.131
- (C) 10.314
- (D) 41.301

D14

QUESTÃO 09

Uma professora da 4ª série pediu que uma aluna marcasse numa linha do tempo o ano de 1940.



Que ponto a aluna deve marcar para acertar a tarefa pedida?

- (A) A
- (B) B
- (C) C
- (D) D

D21

QUESTÃO 10

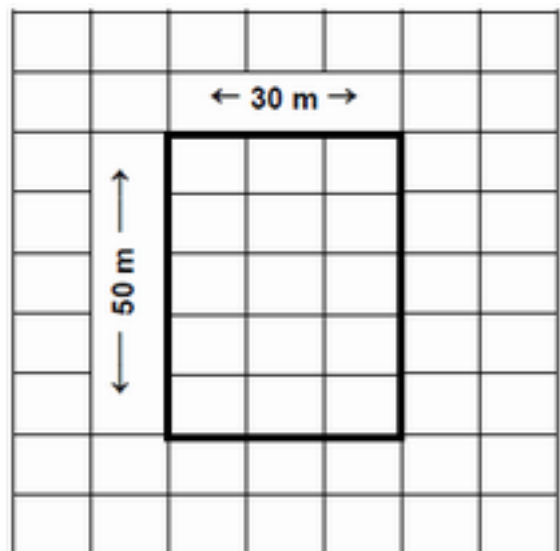
Pedro adubou $\frac{3}{4}$ de sua horta. A parte da horta adubada por Pedro corresponde a:

- (A) 10%.
- (B) 30%.
- (C) 40%.
- (D) 75%.

D11

QUESTÃO 11

Ricardo anda de bicicleta na praça perto de sua casa. Representada pela figura abaixo.



Se ele der a volta completa na praça, andará:

- (A) 160 m.
- (B) 100 m.
- (C) 80 m.
- (D) 60 m.